

ACHIEVE BEST MARKS WITH UNNATI EDUCATIONS

This Question Paper consists of 29 questions and 10 printed pages + Outline Map of India.

इस प्रश्न-पत्र में 29 प्रश्न तथा 10 मुद्रित पृष्ठ हैं + भारत का रेखामानचित्र है।

Code No. 65/AS/3

कोड नं०

Roll No.

--	--	--	--	--	--	--	--	--	--	--

अनुक्रमांक

Set / सेट

A

SOCIAL SCIENCE

सामाजिक विज्ञान

(213)

Day and Date of Examination

(परीक्षा का दिन व दिनांक)

Signature of Invigilators

(निरीक्षकों के हस्ताक्षर)

1.

2.

General Instructions :

1. Candidate must write his/her Roll Number on the first page of the Question Paper.
2. Please check the Question Paper to verify that the total pages and total number of questions contained in the Question Paper are the same as those printed on the top of the first page. Also check to see that the questions are in sequential order.
3. For the objective type of questions, you have to choose any **one** of the four alternatives given in the question, i.e., (A), (B), (C) or (D) and indicate your correct answer in the Answer-Book given to you.
4. All the questions including objective-type questions are to be answered within the allotted time and no separate time limit is fixed for answering objective-type questions.
5. Making any identification mark in the Answer-Book or writing Roll Number anywhere other than the specified places will lead to disqualification of the candidate.
6. Write your Question Paper Code No. 65/AS/3, Set **A** on the Answer-Book.

213/AS/3/405A



[P.T.O.

9899436384, 9654-279-279

ACHIEVE BEST MARKS WITH UNNATI EDUCATIONS

7. (a) The Question Paper is in English/Hindi medium only. However, if you wish, you can answer in any one of the languages listed below :

English, Hindi, Urdu, Punjabi, Bengali, Tamil, Malayalam, Kannada, Telugu, Marathi, Odia, Gujarati, Konkani, Manipuri, Assamese, Nepali, Kashmiri, Sanskrit and Sindhi.

You are required to indicate the language you have chosen to answer in the box provided in the Answer-Book.

- (b) If you choose to write the answer in the language other than Hindi and English, the responsibility for any errors/mistakes in understanding the questions will be yours only.

सामान्य अनुदेश :

1. परीक्षार्थी प्रश्न-पत्र के पहले पृष्ठ पर अपना अनुक्रमांक अवश्य लिखें।
2. कृपया प्रश्न-पत्र को जाँच लें कि प्रश्न-पत्र के कुल पृष्ठों तथा प्रश्नों की उतनी ही संख्या है जितनी प्रथम पृष्ठ के सबसे ऊपर छपी है। इस बात की जाँच भी कर लें कि प्रश्न क्रमिक रूप में हैं।
3. वस्तुनिष्ठ प्रश्नों में आपको चार विकल्पों (A), (B), (C) तथा (D) में से कोई एक उत्तर चुनना है तथा दी गई उत्तर-पुस्तिका में आप सही उत्तर लिखें।
4. वस्तुनिष्ठ प्रश्नों के साथ-साथ सभी प्रश्नों के उत्तर निर्धारित अवधि के भीतर ही देने हैं। वस्तुनिष्ठ प्रश्नों के लिए अलग से समय नहीं दिया जाएगा।
5. उत्तर-पुस्तिका में पहचान-चिह्न बनाने अथवा निर्दिष्ट स्थानों के अतिरिक्त कहीं भी अनुक्रमांक लिखने पर परीक्षार्थी को अयोग्य ठहराया जाएगा।
6. अपनी उत्तर-पुस्तिका पर प्रश्न-पत्र का कोड नं० 65/AS/3, सेट [A], लिखें।
7. (क) प्रश्न-पत्र केवल हिन्दी/अंग्रेजी में है। फिर भी, यदि आप चाहें तो नीचे दी गई किसी एक भाषा में उत्तर दे सकते हैं :

अंग्रेजी, हिन्दी, उर्दू, पंजाबी, बंगला, तमिल, मलयालम, कन्नड़, तेलुगू, मराठी, उड़िया, गुजराती, कोंकणी, मणिपुरी, असमिया, नेपाली, कश्मीरी, संस्कृत और सिन्धी।

कृपया उत्तर-पुस्तिका में दिए गए बॉक्स में लिखें कि आप किस भाषा में उत्तर लिख रहे हैं।

- (ख) यदि आप हिन्दी एवं अंग्रेजी के अतिरिक्त किसी अन्य भाषा में उत्तर लिखते हैं, तो प्रश्नों को समझने में होने वाली त्रुटियों/गलतियों की जिम्मेदारी केवल आपकी होगी।



ACHIEVE BEST MARKS WITH UNNATI EDUCATIONS

SOCIAL SCIENCE

सामाजिक विज्ञान

(213)

Time : 3 Hours]

[Maximum Marks : 100

समय : 3 घण्टे]

[पूर्णांक : 100

Note : (i) All questions are compulsory and carry marks as indicated against each question.

(ii) For Multiple Choice Questions *four* options are given. You have to choose the right option and indicate it in your Answer-Book.

(iii) Attach the map with your Answer-Book.

निर्देश : (i) सभी प्रश्न अनिवार्य हैं और प्रत्येक प्रश्न के अंक उसके सामने दिये गये हैं।

(ii) बहुविकल्पीय प्रश्नों के चार विकल्प दिये गये हैं। आप सही विकल्प चुनिए और अपनी उत्तर-पुस्तिका में लिखिए।

(iii) दिये गये रेखामानचित्रों को उत्तर-पुस्तिका के साथ संलग्न कीजिए।

1. Which one of the following subjects is included in the 'Union List'? 1

(A) Defence

(B) Police

(C) Education

(D) Electricity

निम्नलिखित विषयों में से कौन-सा 'संघ सूची' में शामिल है?

(A) सुरक्षा

(B) पुलिस

(C) शिक्षा

(D) बिजली

2. Which one of the following disasters comes under the 'human-made' category? 1

(A) Volcano

(B) Earthquake

(C) Flood

(D) Bhopal Gas Tragedy

निम्नलिखित आपदाओं में से कौन-सी 'मानव-निर्मित' श्रेणी में आती है?

(A) ज्वालामुखी

(B) भूकंप

(C) बाढ़

(D) भोपाल गैस त्रासदी



ACHIEVE BEST MARKS WITH UNNATI EDUCATIONS

3. Match the *Column—A* with *Column—B* and choose the correct option : 1

Column—A
(Administration)

Column—B
(Administrator)

- | | |
|---------------------------|--------------------|
| 1. Gram Panchayats | (a) Mayor |
| 2. Municipal Corporations | (b) Sarpanch |
| 3. States | (c) Prime Minister |
| 4. Centre | (d) Governor |

Options :

- (A) 1-(b), 2-(a), 3-(d), 4-(c)
(B) 1-(a), 2-(b), 3-(c), 4-(d)
(C) 1-(d), 2-(c), 3-(b), 4-(a)
(D) 1-(c), 2-(d), 3-(a), 4-(b)

स्तंभ A का मिलान, स्तंभ B से कीजिए और सही विकल्प का चयन कीजिए :

स्तंभ—A
(प्रशासन)

स्तंभ—B
(प्रशासक)

- | | |
|-----------------|------------------|
| 1. ग्राम पंचायत | (a) मेयर |
| 2. नगर निगम | (b) सरपंच |
| 3. राज्य | (c) प्रधानमंत्री |
| 4. केन्द्र | (d) राज्यपाल |

विकल्प :

- (A) 1-(b), 2-(a), 3-(d), 4-(c)
(B) 1-(a), 2-(b), 3-(c), 4-(d)
(C) 1-(d), 2-(c), 3-(b), 4-(a)
(D) 1-(c), 2-(d), 3-(a), 4-(b)



ACHIEVE BEST MARKS WITH UNNATI EDUCATIONS

4. Which one of the following religions has the largest number of its followers in India? 1
- (A) Hinduism (B) Islam
(C) Christianity (D) Sikhism
- भारत में निम्नलिखित धर्मों में से किसके सबसे बड़ी संख्या में अपने अनुयायी हैं?
- (A) हिन्दुत्व (B) इस्लाम
(C) ईसाई (D) सिख
5. Which are the *two* most important food crops of India? 1+1=2
- भारत की दो सबसे महत्वपूर्ण खाद्य फसलें कौन-सी हैं?
6. Explain the role of Raja Ram Mohan Roy as a socio-religious reformer. 2
- सामाजिक-धार्मिक सुधारक के रूप में राजा राम मोहन राय की भूमिका को स्पष्ट कीजिए।
7. Explain the meaning of a political party. 2
- राजनीतिक दल का अर्थ स्पष्ट कीजिए।
8. Explain with examples the *two* broad categories of programmes which have been implemented for alleviation of poverty in India. 2
- भारत में गरीबी को कम करने के लिए मोटे तौर पर लागू किए गए दो प्रकार के कार्यक्रमों की उदाहरणों सहित व्याख्या कीजिए।
9. Define the term 'density of population'. Describe the *three* physical factors that influence the distribution and density of population. 1+3=4
- 'जनसंख्या घनत्व' शब्द को परिभाषित कीजिए। जनसंख्या के वितरण और घनत्व को प्रभावित करने वाले तीन भौतिक कारकों का वर्णन कीजिए।
10. Describe any *four* functions of the Election Commission of India. 4
- भारत के चुनाव आयोग के किन्हीं चार कार्यों का वर्णन कीजिए।
11. Describe the role of 'public opinion' in a democracy. 4
- लोकतंत्र में 'जनमत' की भूमिका का वर्णन कीजिए।



ACHIEVE BEST MARKS WITH UNNATI EDUCATIONS

12. Describe the main policies of the Indian National Congress. 4
भारतीय राष्ट्रीय कांग्रेस की मुख्य नीतियों का वर्णन कीजिए।
13. Why were the early Congress leaders referred to as 'Moderates'? Explain. 4
प्रारम्भिक कांग्रेस के नेता 'नरमपंथी' क्यों कहलाते थे? स्पष्ट कीजिए।
14. Why was the Muslim League formed? Explain. 4
मुस्लिम लीग की स्थापना क्यों की गई थी? स्पष्ट कीजिए।
15. Explain any *four* economic causes of the Revolt of 1857. 4
1857 के विद्रोह के किन्हीं चार आर्थिक कारणों की व्याख्या कीजिए।
16. Explain the main features of 'hot weather season'. 4
'ग्रीष्म ऋतु' की मुख्य विशेषताओं को स्पष्ट कीजिए।
17. Explain the geographical conditions required for growing sugarcane. 4
गन्ने की उपज के लिए आवश्यक भौगोलिक दशाओं की व्याख्या कीजिए।
18. "Prime Minister is the real head of the Union in India." Support the statement. 4
"भारत में प्रधानमंत्री ही संघ कार्यपालिका के वास्तविक प्रमुख हैं।" इस कथन की पुष्टि कीजिए।
19. Explain the composition and functions of the Union Council of Ministers. 4
संघीय मंत्रिपरिषद् के गठन और कार्यों को स्पष्ट कीजिए।



ACHIEVE BEST MARKS WITH UNNATI EDUCATIONS

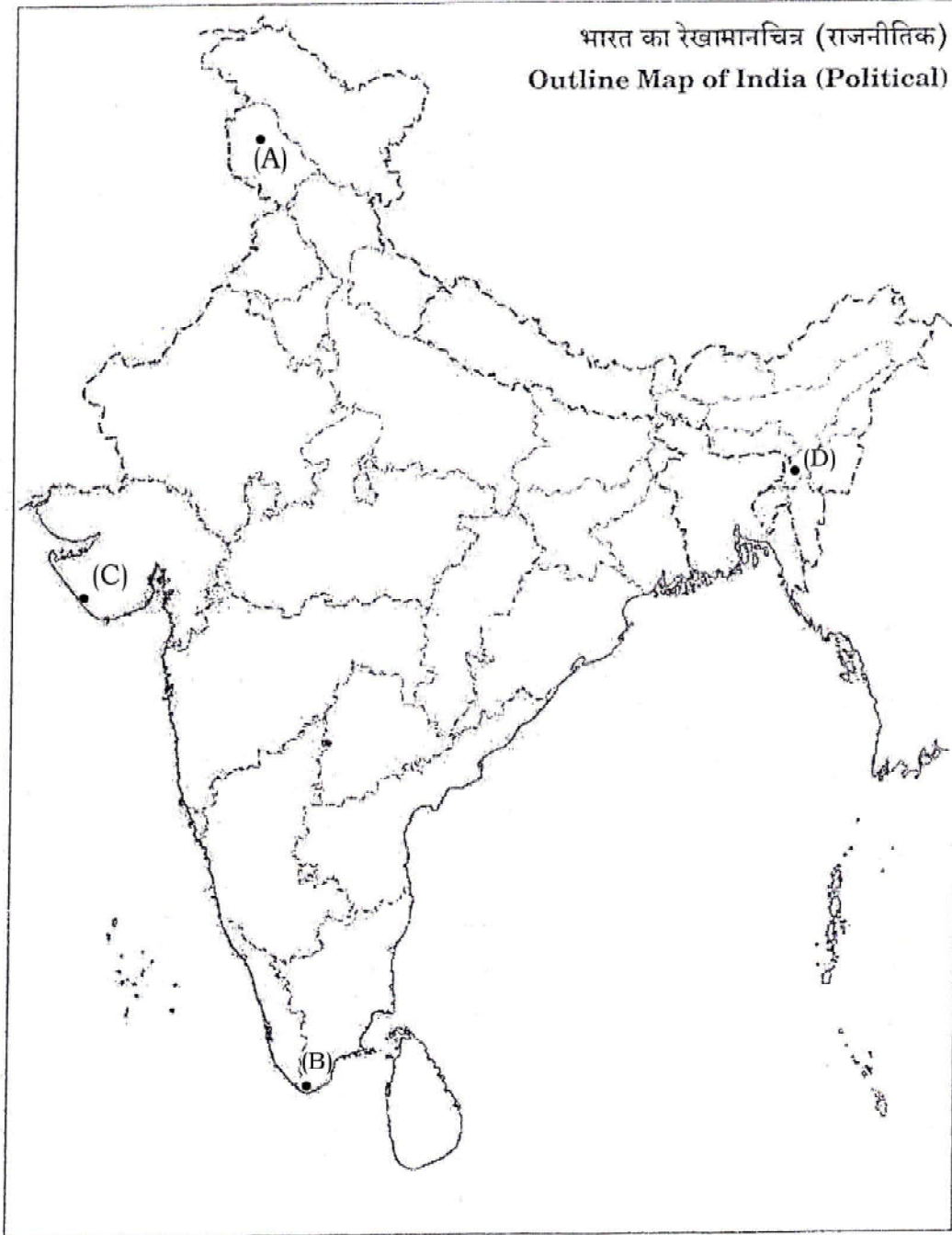
20. Explain the serious consequences of environmental degradation. 4
पर्यावरणीय क्षरण के गंभीर परिणामों की व्याख्या कीजिए।
21. How did revolutionaries contribute in Independence of India? Explain. 4
भारत की स्वतंत्रता में विद्रोहियों ने किस प्रकार योगदान किया? स्पष्ट कीजिए।
22. Explain the impact of the Reform Movement on the Indian society. 4
भारतीय समाज पर सुधार आंदोलनों के प्रभाव को स्पष्ट कीजिए।
23. Explain with examples the functions of the 'State Legislature'. 4
'राज्य विधायिका' के कार्यों की उदाहरणों सहित व्याख्या कीजिए।
24. Describe the progress made in different aspects of life during the Gupta Age. 5
गुप्त काल के दौरान जीवन के विभिन्न पहलुओं में की गई प्रगति का वर्णन कीजिए।
25. Describe any *five* major challenges to National Integration. 1×5=5
राष्ट्रीय एकीकरण के समक्ष किन्हीं पाँच प्रमुख चुनौतियों का वर्णन कीजिए।
26. "The innovation had maximum impact in textile and transport industries during the Industrial Revolution." Support the statement. 5
"औद्योगिक क्रांति के दौरान वस्त्र और परिवहन उद्योगों में अधिकतम अभिनव परिवर्तन हुए।" इस कथन की पुष्टि कीजिए।
27. Explain any *five* salient features of Indian agriculture. 1×5=5
भारतीय कृषि की किन्हीं पाँच प्रमुख विशेषताओं को स्पष्ट कीजिए।



ACHIEVE BEST MARKS WITH UNNATI EDUCATIONS

28. Terminal stations of North-South and East-West Corridors are marked by (A), (B), (C) and (D) on the given Political Outline Map of India. Identify them and write their correct names in your Answer-Book : $1 \times 4 = 4$

उत्तर-दक्षिण और पूर्व-पश्चिम गलियारों के सिरों के स्टेशनों को भारत के राजनीतिक रेखामानचित्र पर (A), (B), (C) और (D) से अंकित किया गया है। उन्हें पहचानिए और उनके सही नाम अपनी उत्तर-पुस्तिका में लिखिए।



ACHIEVE BEST MARKS WITH UNNATI EDUCATIONS

29. Locate and label the following four geographical features on the given Political Outline Map of India with appropriate symbols : 1×4=4

- (a) Satpura Range
- (b) Mahanadi
- (c) Nanda Devi Biosphere Reserve
- (d) The State having the highest literacy rate

दिए गए भारत के राजनीतिक रेखामानचित्र में निम्नलिखित चार भौगोलिक लक्षणों को उपयुक्त चिह्नों के साथ अंकित कीजिए और उनके नाम लिखिए :

- (क) सतपुड़ा श्रेणी
- (ख) महानदी
- (ग) नंदा देवी बायोस्फीयर रिजर्व
- (घ) सर्वाधिक साक्षरता दर वाला राज्य

Note : The following questions are for the **Visually Impaired Candidates only** in lieu of Question Nos. 28 and 29 : 2×4=8

- (a) Name the terminal stations of North-South Corridor.
- (b) Name the terminal stations of East-West Corridor.
- (c) Name any *two* east-flowing major rivers of Himalayas.
- (d) Name any *two* west-flowing major rivers of Himalayas.



ACHIEVE BEST MARKS WITH UNNATI EDUCATIONS

नोट : निम्नलिखित प्रश्न केवल दृष्टिबाधित परीक्षार्थियों के लिए प्रश्न संख्या 28 तथा 29 के स्थान पर है :

- (क) उत्तर-दक्षिण गलियारे के अन्तिम सिरो के स्टेशनों के नाम लिखिए।
- (ख) पूर्व-पश्चिम गलियारे के अन्तिम सिरो के स्टेशनों के नाम लिखिए।
- (ग) हिमालय की पूर्व की ओर प्रवाहित हो रही किन्हीं दो प्रमुख नदियों के नाम लिखिए।
- (घ) हिमालय की पश्चिम की ओर प्रवाहित हो रही किन्हीं दो प्रमुख नदियों के नाम लिखिए।

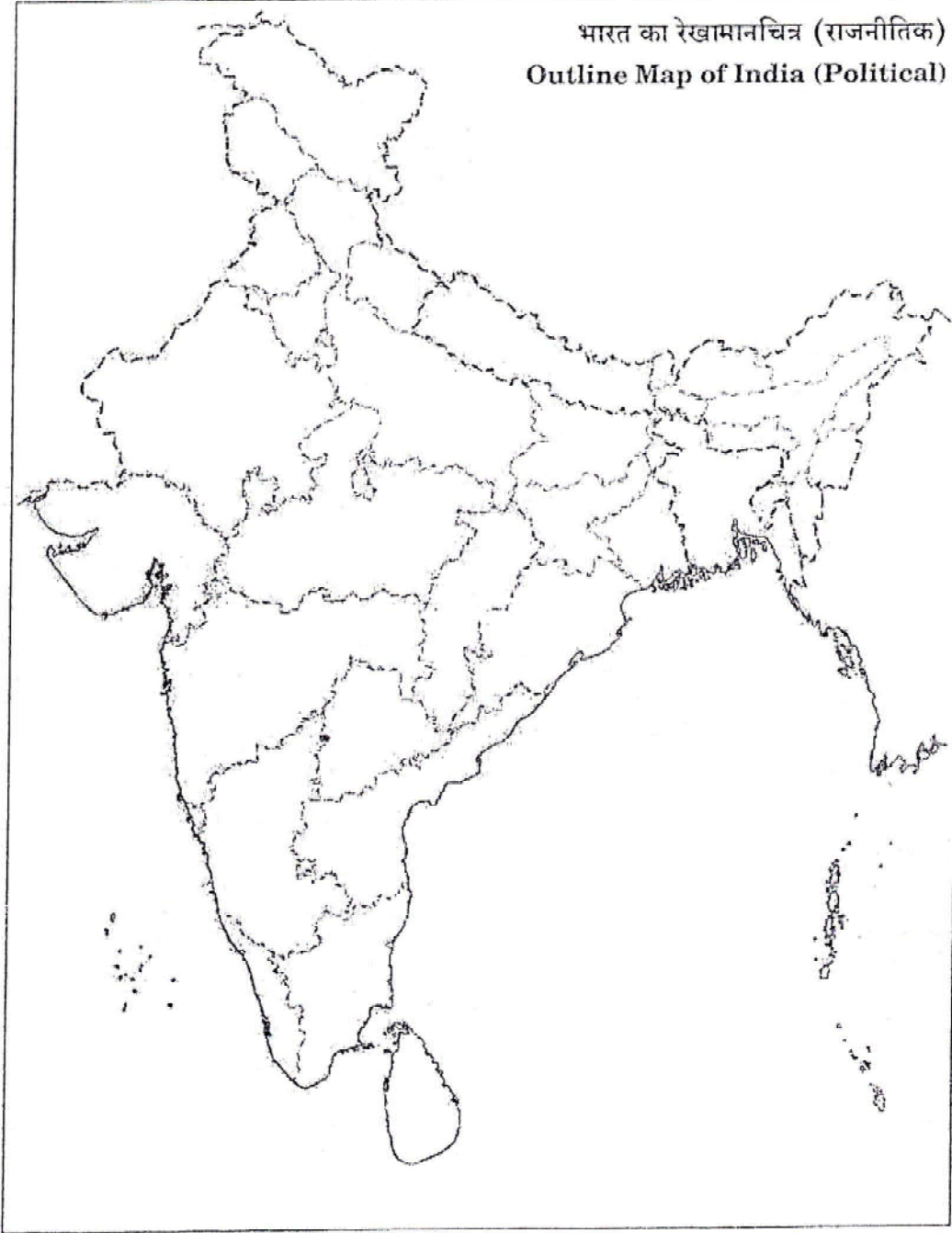


ACHIEVE BEST MARKS WITH UNNATI EDUCATIONS

Map for Q. No. 29
प्रश्न सं० 29 के लिए रेखामानचित्र

Roll No.
अनुक्रमांक

--	--	--	--	--	--	--	--	--	--	--	--	--	--	--	--	--	--	--	--



ACHIEVE BEST MARKS WITH UNNATI EDUCATIONS

7. (a) The Question Paper is in English/Hindi medium only. However, if you wish, you can answer in any one of the languages listed below :

English, Hindi, Urdu, Punjabi, Bengali, Tamil, Malayalam, Kannada, Telugu, Marathi, Odia, Gujarati, Konkani, Manipuri, Assamese, Nepali, Kashmiri, Sanskrit and Sindhi.

You are required to indicate the language you have chosen to answer in the box provided in the Answer-Book.

- (b) If you choose to write the answer in the language other than Hindi and English, the responsibility for any errors/mistakes in understanding the questions will be yours only.

सामान्य अनुदेश :

1. परीक्षार्थी प्रश्न-पत्र के पहले पृष्ठ पर अपना अनुक्रमांक अवश्य लिखें।
2. कृपया प्रश्न-पत्र को जाँच लें कि प्रश्न-पत्र के कुल पृष्ठों तथा प्रश्नों की उतनी ही संख्या है जितनी प्रथम पृष्ठ के सबसे ऊपर छपी है। इस बात की जाँच भी कर लें कि प्रश्न क्रमिक रूप में हैं।
3. वस्तुनिष्ठ प्रश्नों में आपको चार विकल्पों (A), (B), (C) तथा (D) में से कोई एक उत्तर चुनना है तथा दी गई उत्तर-पुस्तिका में आप सही उत्तर लिखें।
4. वस्तुनिष्ठ प्रश्नों के साथ-साथ सभी प्रश्नों के उत्तर निर्धारित अवधि के भीतर ही देने हैं। वस्तुनिष्ठ प्रश्नों के लिए अलग से समय नहीं दिया जाएगा।
5. उत्तर-पुस्तिका में पहचान-चिह्न बनाने अथवा निर्दिष्ट स्थानों के अतिरिक्त कहीं भी अनुक्रमांक लिखने पर परीक्षार्थी को अयोग्य ठहराया जाएगा।
6. अपनी उत्तर-पुस्तिका पर प्रश्न-पत्र का कोड नं० 65/AS/3, सेट [B], लिखें।
7. (क) प्रश्न-पत्र केवल हिन्दी/अंग्रेजी में है। फिर भी, यदि आप चाहें तो नीचे दी गई किसी एक भाषा में उत्तर दे सकते हैं :

अंग्रेजी, हिन्दी, उर्दू, पंजाबी, बंगला, तमिल, मलयालम, कन्नड़, तेलुगू, मराठी, उड़िया, गुजराती, कोंकणी, मणिपुरी, असमिया, नेपाली, कश्मीरी, संस्कृत और सिन्धी।

कृपया उत्तर-पुस्तिका में दिए गए बॉक्स में लिखें कि आप किस भाषा में उत्तर लिख रहे हैं।

- (ख) यदि आप हिन्दी एवं अंग्रेजी के अतिरिक्त किसी अन्य भाषा में उत्तर लिखते हैं, तो प्रश्नों को समझने में होने वाली त्रुटियों/गलतियों की जिम्मेदारी केवल आपकी होगी।



ACHIEVE BEST MARKS WITH UNNATI EDUCATIONS

SOCIAL SCIENCE

सामाजिक विज्ञान

(213)

Time : 3 Hours]

[Maximum Marks : 100

समय : 3 घण्टे]

[पूर्णांक : 100

Note : (i) All questions are compulsory and carry marks as indicated against each question.

(ii) For Multiple Choice Questions *four* options are given. You have to choose the right option and indicate it in your Answer-Book.

(iii) Attach the map with your Answer-Book.

निर्देश : (i) सभी प्रश्न अनिवार्य हैं और प्रत्येक प्रश्न के अंक उसके सामने दिये गये हैं।

(ii) बहुविकल्पीय प्रश्नों के चार विकल्प दिये गये हैं। आप सही विकल्प चुनिए और अपनी उत्तर-पुस्तिका में लिखिए।

(iii) दिये गये रेखामानचित्रों को उत्तर-पुस्तिका के साथ संलग्न कीजिए।

1. Which one of the following religions has the largest number of its followers in India? 1

(A) Hinduism

(B) Islam

(C) Christianity

(D) Sikhism

भारत में निम्नलिखित धर्मों में से किसके सबसे बड़ी संख्या में अपने अनुयायी हैं?

(A) हिन्दुत्व

(B) इस्लाम

(C) ईसाई

(D) सिख

2. Match the *Column—A* with *Column—B* and choose the correct option : 1

Column—A
(Administration)

Column—B
(Administrator)

1. Gram Panchayats

(a) Mayor

2. Municipal Corporations

(b) Sarpanch

3. States

(c) Prime Minister

4. Centre

(d) Governor



ACHIEVE BEST MARKS WITH UNNATI EDUCATIONS

Options :

- (A) 1-(b), 2-(a), 3-(d), 4-(c)
(B) 1-(a), 2-(b), 3-(c), 4-(d)
(C) 1-(d), 2-(c), 3-(b), 4-(a)
(D) 1-(c), 2-(d), 3-(a), 4-(b)

स्तंभ A का मिलान, स्तंभ B से कीजिए और सही विकल्प का चयन कीजिए :

स्तंभ—A (प्रशासन)	स्तंभ—B (प्रशासक)
1. ग्राम पंचायत	(a) मेयर
2. नगर निगम	(b) सरपंच
3. राज्य	(c) प्रधानमंत्री
4. केन्द्र	(d) राज्यपाल

विकल्प :

- (A) 1-(b), 2-(a), 3-(d), 4-(c)
(B) 1-(a), 2-(b), 3-(c), 4-(d)
(C) 1-(d), 2-(c), 3-(b), 4-(a)
(D) 1-(c), 2-(d), 3-(a), 4-(b)

3. Which one of the following disasters comes under the 'human-made' category?

1

- (A) Volcano (B) Earthquake
(C) Flood (D) Bhopal Gas Tragedy

निम्नलिखित आपदाओं में से कौन-सी 'मानव-निर्मित' श्रेणी में आती है?

- (A) ज्वालामुखी (B) भूकंप
(C) बाढ़ (D) भोपाल गैस त्रासदी



ACHIEVE BEST MARKS WITH UNNATI EDUCATIONS

4. Which one of the following subjects is included in the 'Union List'? 1

- (A) Defence (B) Police
(C) Education (D) Electricity

निम्नलिखित विषयों में से कौन-सा 'संघ सूची' में शामिल है?

- (A) सुरक्षा (B) पुलिस
(C) शिक्षा (D) बिजली

5. Explain with examples the *two* broad categories of programmes which have been implemented for alleviation of poverty in India. 2

भारत में गरीबी को कम करने के लिए मोटे तौर पर लागू किए गए दो प्रकार के कार्यक्रमों की उदाहरणों सहित व्याख्या कीजिए।

6. Explain the contribution of Sir Syed Ahmad Khan in the field of education. 2

शिक्षा के क्षेत्र में सर सैयद अहमद खाँ के योगदान को स्पष्ट कीजिए।

7. Why do we need political parties? 2

हमें राजनीतिक दलों की आवश्यकता क्यों होती है?

8. Which are the *two* most important food crops of India? 1+1=2

भारत की दो सबसे महत्वपूर्ण खाद्य फसलें कौन-सी हैं?

9. Explain the composition and functions of the Union Council of Ministers. 4

संघीय मंत्रिपरिषद् के गठन और कार्यों को स्पष्ट कीजिए।

10. Why was the Muslim League formed? Explain. 4

मुस्लिम लीग की स्थापना क्यों की गई थी? स्पष्ट कीजिए।



ACHIEVE BEST MARKS WITH UNNATI EDUCATIONS

11. Why were the early Congress leaders referred to as 'Moderates'? Explain. 4
प्रारम्भिक कांग्रेस के नेता 'नरमपंथी' क्यों कहलाते थे? स्पष्ट कीजिए।
12. Define the term 'density of population'. Describe the *three* physical factors that influence the distribution and density of population. 1+3=4
'जनसंख्या घनत्व' शब्द को परिभाषित कीजिए। जनसंख्या के वितरण और घनत्व को प्रभावित करने वाले तीन भौतिक कारकों का वर्णन कीजिए।
13. Describe any *four* functions of the Election Commission of India. 4
भारत के चुनाव आयोग के किन्हीं चार कार्यों का वर्णन कीजिए।
14. Describe the role of 'public opinion' in a democracy. 4
लोकतंत्र में 'जनमत' की भूमिका का वर्णन कीजिए।
15. Explain the impact of the Revolt of 1857. 4
1857 के विद्रोह के प्रभाव को स्पष्ट कीजिए।
16. Explain the characteristics of 'cold weather season'. 1×4=4
'शीत ऋतु' की विशेषताओं की व्याख्या कीजिए।
17. Explain the geographical conditions required for the cultivation of cotton crop. 4
कपास की फसल की खेती के लिए आवश्यक भौगोलिक दशाओं को स्पष्ट कीजिए।
18. "There is a close relationship between the Legislature and the Executive." Support the statement. 4
'विधायिका और कार्यपालिका के बीच घनिष्ठ संबंध है।' इस कथन की पुष्टि कीजिए।



ACHIEVE BEST MARKS WITH UNNATI EDUCATIONS

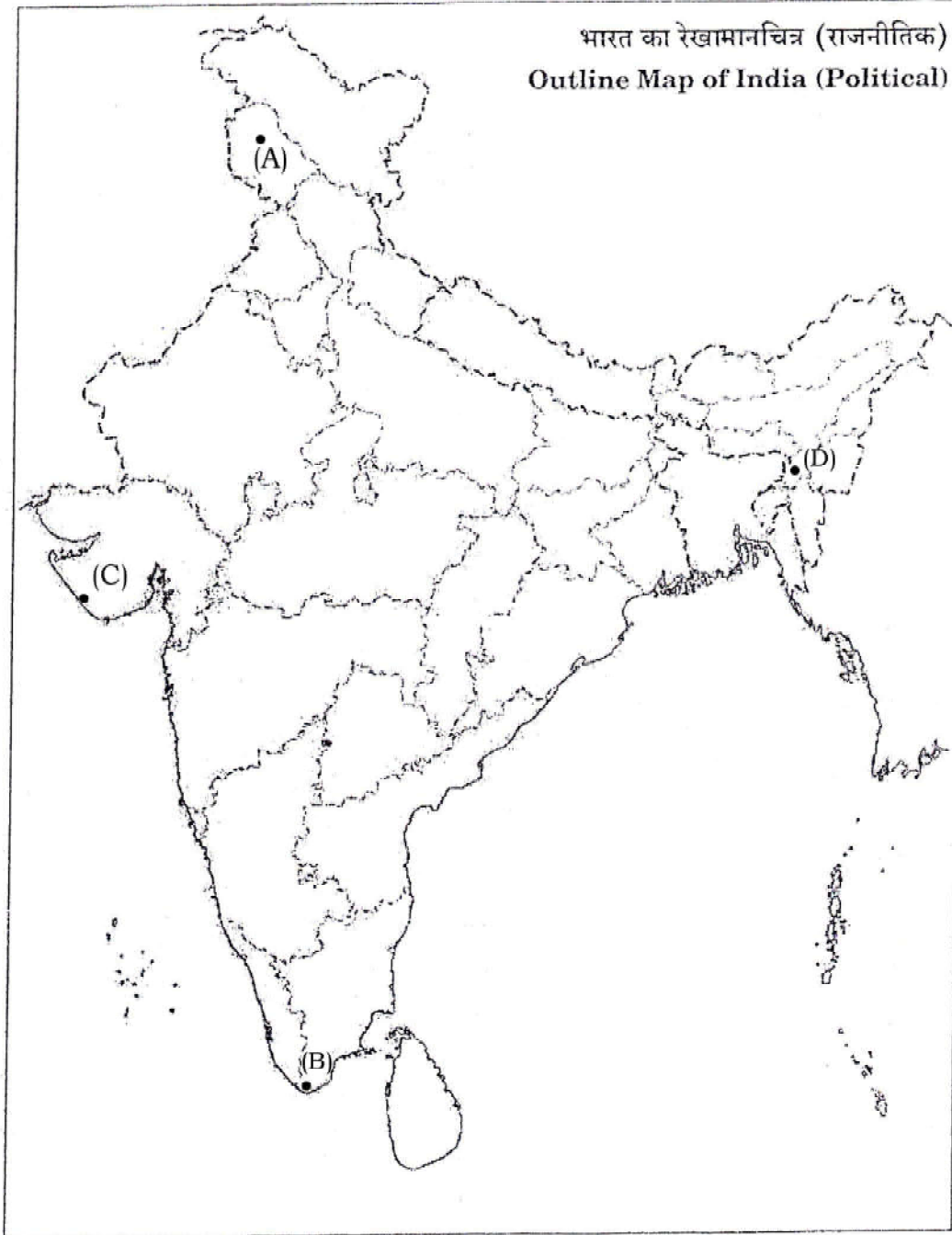
19. Describe the main policies of the Indian National Congress. 4
भारतीय राष्ट्रीय कांग्रेस की मुख्य नीतियों का वर्णन कीजिए।
20. Explain with examples the functions of the 'State Legislature'. 4
'राज्य विधायिका' के कार्यों की उदाहरणों सहित व्याख्या कीजिए।
21. Explain the impact of the Reform Movement on the Indian society. 4
भारतीय समाज पर सुधार आंदोलनों के प्रभाव को स्पष्ट कीजिए।
22. How did revolutionaries contribute in Independence of India? Explain. 4
भारत की स्वतंत्रता में विद्रोहियों ने किस प्रकार योगदान किया? स्पष्ट कीजिए।
23. Explain the serious consequences of environmental degradation. 4
पर्यावरणीय क्षरण के गंभीर परिणामों की व्याख्या कीजिए।
24. Describe the features of Buddhism. 5
बौद्ध धर्म की विशेषताओं का वर्णन कीजिए।
25. "The innovation had maximum impact in textile and transport industries during the Industrial Revolution." Support the statement. 5
"औद्योगिक क्रांति के दौरान वस्त्र और परिवहन उद्योगों में अधिकतम अभिनव परिवर्तन हुए।" इस कथन की पुष्टि कीजिए।
26. Explain any five salient features of Indian agriculture. 1×5=5
भारतीय कृषि की किन्हीं पाँच प्रमुख विशेषताओं को स्पष्ट कीजिए।
27. Describe any five major challenges to National Integration. 1×5=5
राष्ट्रीय एकीकरण के समक्ष किन्हीं पाँच प्रमुख चुनौतियों का वर्णन कीजिए।



ACHIEVE BEST MARKS WITH UNNATI EDUCATIONS

28. Terminal stations of North-South and East-West Corridors are marked by (A), (B), (C) and (D) on the given Political Outline Map of India. Identify them and write their correct names in your Answer-Book : $1 \times 4 = 4$

उत्तर-दक्षिण और पूर्व-पश्चिम गलियारों के सिरों के स्टेशनों को भारत के राजनीतिक रेखामानचित्र पर (A), (B), (C) और (D) से अंकित किया गया है। उन्हें पहचानिए और उनके सही नाम अपनी उत्तर-पुस्तिका में लिखिए।



ACHIEVE BEST MARKS WITH UNNATI EDUCATIONS

29. Locate and label the following **four** geographical features on the given Political Outline Map of India with appropriate symbols : 1×4=4

- (a) Satpura Range
- (b) Mahanadi
- (c) Nanda Devi Biosphere Reserve
- (d) The State having the highest literacy rate

दिए गए भारत के राजनीतिक रेखामानचित्र में निम्नलिखित चार भौगोलिक लक्षणों को उपयुक्त चिह्नों के साथ अंकित कीजिए और उनके नाम लिखिए :

- (क) सतपुड़ा श्रेणी
- (ख) महानदी
- (ग) नंदा देवी—बायोस्फीयर रिजर्व
- (घ) सर्वाधिक साक्षरता दर वाला राज्य

Note : The following questions are for the **Visually Impaired Candidates only** in lieu of Question Nos. **28** and **29** : 2×4=8

- (a) Name the terminal stations of North-South Corridor.
- (b) Name the terminal stations of East-West Corridor.
- (c) Name any *two* east-flowing major rivers of Himalayas.
- (d) Name any *two* west-flowing major rivers of Himalayas.



ACHIEVE BEST MARKS WITH UNNATI EDUCATIONS

नोट : निम्नलिखित प्रश्न केवल दृष्टिबाधित परीक्षार्थियों के लिए प्रश्न संख्या 28 तथा 29 के स्थान पर है :

- (क) उत्तर-दक्षिण गलियारे के अन्तिम सिरो के स्टेशनों के नाम लिखिए।
- (ख) पूर्व-पश्चिम गलियारे के अन्तिम सिरो के स्टेशनों के नाम लिखिए।
- (ग) हिमालय की पूर्व की ओर प्रवाहित हो रही किन्हीं दो प्रमुख नदियों के नाम लिखिए।
- (घ) हिमालय की पश्चिम की ओर प्रवाहित हो रही किन्हीं दो प्रमुख नदियों के नाम लिखिए।

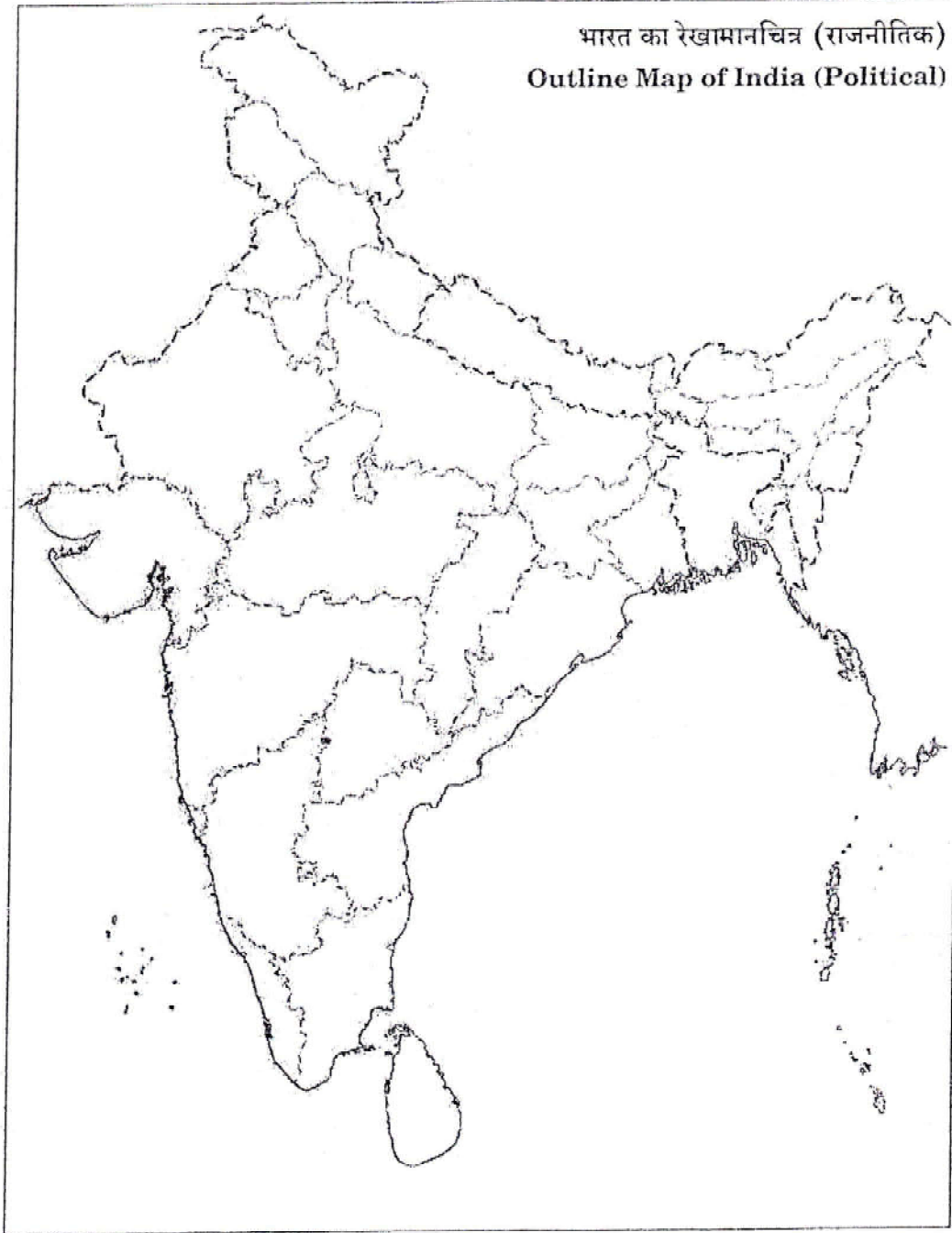


ACHIEVE BEST MARKS WITH UNNATI EDUCATIONS

Map for Q. No. 29
प्रश्न सं० 29 के लिए रेखामानचित्र

Roll No.
अनुक्रमांक

--	--	--	--	--	--	--	--	--	--	--	--	--	--	--	--	--	--	--	--



ACHIEVE BEST MARKS WITH UNNATI EDUCATIONS

This Question Paper consists of 29 questions and 10 printed pages + Outline Map of India.

इस प्रश्न-पत्र में 29 प्रश्न तथा 10 मुद्रित पृष्ठ हैं + भारत का रेखामानचित्र है।

Code No. 65/AS/3

कोड नं०

Roll No.

--	--	--	--	--	--	--	--	--	--	--

अनुक्रमांक

Set / सेट

C

SOCIAL SCIENCE

सामाजिक विज्ञान

(213)

Day and Date of Examination

(परीक्षा का दिन व दिनांक)

Signature of Invigilators

(निरीक्षकों के हस्ताक्षर)

1.

2.

General Instructions :

1. Candidate must write his/her Roll Number on the first page of the Question Paper.
2. Please check the Question Paper to verify that the total pages and total number of questions contained in the Question Paper are the same as those printed on the top of the first page. Also check to see that the questions are in sequential order.
3. For the objective type of questions, you have to choose any **one** of the four alternatives given in the question, i.e., (A), (B), (C) or (D) and indicate your correct answer in the Answer-Book given to you.
4. All the questions including objective-type questions are to be answered within the allotted time and no separate time limit is fixed for answering objective-type questions.
5. Making any identification mark in the Answer-Book or writing Roll Number anywhere other than the specified places will lead to disqualification of the candidate.
6. Write your Question Paper Code No. 65/AS/3, Set **C** on the Answer-Book.

213/AS/3/405C



[P.T.O.

9899436384, 9654-279-279

ACHIEVE BEST MARKS WITH UNNATI EDUCATIONS

7. (a) The Question Paper is in English/Hindi medium only. However, if you wish, you can answer in any one of the languages listed below :

English, Hindi, Urdu, Punjabi, Bengali, Tamil, Malayalam, Kannada, Telugu, Marathi, Odia, Gujarati, Konkani, Manipuri, Assamese, Nepali, Kashmiri, Sanskrit and Sindhi.

You are required to indicate the language you have chosen to answer in the box provided in the Answer-Book.

- (b) If you choose to write the answer in the language other than Hindi and English, the responsibility for any errors/mistakes in understanding the questions will be yours only.

सामान्य अनुदेश :

1. परीक्षार्थी प्रश्न-पत्र के पहले पृष्ठ पर अपना अनुक्रमांक अवश्य लिखें।
2. कृपया प्रश्न-पत्र को जाँच लें कि प्रश्न-पत्र के कुल पृष्ठों तथा प्रश्नों की उतनी ही संख्या है जितनी प्रथम पृष्ठ के सबसे ऊपर छपी है। इस बात की जाँच भी कर लें कि प्रश्न क्रमिक रूप में हैं।
3. वस्तुनिष्ठ प्रश्नों में आपको चार विकल्पों (A), (B), (C) तथा (D) में से कोई एक उत्तर चुनना है तथा दी गई उत्तर-पुस्तिका में आप सही उत्तर लिखें।
4. वस्तुनिष्ठ प्रश्नों के साथ-साथ सभी प्रश्नों के उत्तर निर्धारित अवधि के भीतर ही देने हैं। वस्तुनिष्ठ प्रश्नों के लिए अलग से समय नहीं दिया जाएगा।
5. उत्तर-पुस्तिका में पहचान-चिह्न बनाने अथवा निर्दिष्ट स्थानों के अतिरिक्त कहीं भी अनुक्रमांक लिखने पर परीक्षार्थी को अयोग्य ठहराया जाएगा।
6. अपनी उत्तर-पुस्तिका पर प्रश्न-पत्र का कोड नं० 65/AS/3, सेट [C], लिखें।
7. (क) प्रश्न-पत्र केवल हिन्दी/अंग्रेजी में है। फिर भी, यदि आप चाहें तो नीचे दी गई किसी एक भाषा में उत्तर दे सकते हैं :

अंग्रेजी, हिन्दी, उर्दू, पंजाबी, बंगला, तमिल, मलयालम, कन्नड़, तेलुगू, मराठी, उड़िया, गुजराती, कोंकणी, मणिपुरी, असमिया, नेपाली, कश्मीरी, संस्कृत और सिन्धी।

कृपया उत्तर-पुस्तिका में दिए गए बॉक्स में लिखें कि आप किस भाषा में उत्तर लिख रहे हैं।

- (ख) यदि आप हिन्दी एवं अंग्रेजी के अतिरिक्त किसी अन्य भाषा में उत्तर लिखते हैं, तो प्रश्नों को समझने में होने वाली त्रुटियों/गलतियों की जिम्मेदारी केवल आपकी होगी।



ACHIEVE BEST MARKS WITH UNNATI EDUCATIONS

SOCIAL SCIENCE

सामाजिक विज्ञान

(213)

Time : 3 Hours]

[Maximum Marks : 100

समय : 3 घण्टे]

[पूर्णांक : 100

Note : (i) All questions are compulsory and carry marks as indicated against each question.

(ii) For Multiple Choice Questions *four* options are given. You have to choose the right option and indicate it in your Answer-Book.

(iii) Attach the map with your Answer-Book.

निर्देश : (i) सभी प्रश्न अनिवार्य हैं और प्रत्येक प्रश्न के अंक उसके सामने दिये गये हैं।

(ii) बहुविकल्पीय प्रश्नों के चार विकल्प दिये गये हैं। आप सही विकल्प चुनिए और अपनी उत्तर-पुस्तिका में लिखिए।

(iii) दिये गये रेखामानचित्रों को उत्तर-पुस्तिका के साथ संलग्न कीजिए।

1. Match the Column—A with Column—B and choose the correct option : 1

Column—A
(Administration)

Column—B
(Administrator)

- | | |
|---------------------------|--------------------|
| 1. Gram Panchayats | (a) Mayor |
| 2. Municipal Corporations | (b) Sarpanch |
| 3. States | (c) Prime Minister |
| 4. Centre | (d) Governor |

Options :

(A) 1-(b), 2-(a), 3-(d), 4-(c)

(B) 1-(a), 2-(b), 3-(c), 4-(d)

(C) 1-(d), 2-(c), 3-(b), 4-(a)

(D) 1-(c), 2-(d), 3-(a), 4-(b)



ACHIEVE BEST MARKS WITH UNNATI EDUCATIONS

स्तंभ A का मिलान, स्तंभ B से कीजिए और सही विकल्प का चयन कीजिए :

स्तंभ—A
(प्रशासन)

स्तंभ—B
(प्रशासक)

- | | |
|-----------------|------------------|
| 1. ग्राम पंचायत | (a) मेयर |
| 2. नगर निगम | (b) सरपंच |
| 3. राज्य | (c) प्रधानमंत्री |
| 4. केन्द्र | (d) राज्यपाल |

विकल्प :

- (A) 1-(b), 2-(a), 3-(d), 4-(c)
(B) 1-(a), 2-(b), 3-(c), 4-(d)
(C) 1-(d), 2-(c), 3-(b), 4-(a)
(D) 1-(c), 2-(d), 3-(a), 4-(b)

2. Which one of the following religions has the largest number of its followers in India? 1

- (A) Hinduism (B) Islam
(C) Christianity (D) Sikhism

भारत में निम्नलिखित धर्मों में से किसके सबसे बड़ी संख्या में अपने अनुयायी हैं?

- (A) हिन्दुत्व (B) इस्लाम
(C) ईसाई (D) सिख

3. Which one of the following subjects is included in the 'Union List'? 1

- (A) Defence (B) Police
(C) Education (D) Electricity

निम्नलिखित विषयों में से कौन-सा 'संघ सूची' में शामिल है?

- (A) सुरक्षा (B) पुलिस
(C) शिक्षा (D) बिजली



ACHIEVE BEST MARKS WITH UNNATI EDUCATIONS

4. Which one of the following disasters comes under the 'human-made' category? 1
- (A) Volcano (B) Earthquake
(C) Flood (D) Bhopal Gas Tragedy
- निम्नलिखित आपदाओं में से कौन-सी 'मानव-निर्मित' श्रेणी में आती है?
- (A) ज्वालामुखी (B) भूकंप
(C) बाढ़ (D) भोपाल गैस त्रासदी
5. Which are the *two* most important food crops of India? 1+1=2
- भारत की दो सबसे महत्वपूर्ण खाद्य फसलें कौन-सी हैं?
6. Explain the role of Swami Vivekananda as a socio-religious reformer. 2
- सामाजिक-धार्मिक सुधारक के रूप में स्वामी विवेकानंद की भूमिका स्पष्ट कीजिए।
7. Explain the importance of Elections. 2
- चुनावों के महत्त्व की व्याख्या कीजिए।
8. Explain with examples the *two* broad categories of programmes which have been implemented for alleviation of poverty in India. 2
- भारत में गरीबी को कम करने के लिए मोटे तौर पर लागू किए गए दो प्रकार के कार्यक्रमों की उदाहरणों सहित व्याख्या कीजिए।
9. Describe the main policies of the Indian National Congress. 4
- भारतीय राष्ट्रीय कांग्रेस की मुख्य नीतियों का वर्णन कीजिए।
10. Describe the role of 'public opinion' in a democracy. 4
- लोकतंत्र में 'जनमत' की भूमिका का वर्णन कीजिए।



ACHIEVE BEST MARKS WITH UNNATI EDUCATIONS

11. Describe any *four* functions of the Election Commission of India. 4
भारत के चुनाव आयोग के किन्हीं चार कार्यों का वर्णन कीजिए।
12. Why were the early Congress leaders referred to as 'Moderates'? Explain. 4
प्रारम्भिक कांग्रेस के नेता 'नरमपंथी' क्यों कहलाते थे? स्पष्ट कीजिए।
13. Why was the Muslim League formed? Explain. 4
मुस्लिम लीग की स्थापना क्यों की गई थी? स्पष्ट कीजिए।
14. Explain the composition and functions of the Union Council of Ministers. 4
संघीय मंत्रिपरिषद् के गठन और कार्यों को स्पष्ट कीजिए।
15. Explain immediate consequences of the First World War. 4
प्रथम विश्वयुद्ध के तात्कालिक परिणामों की व्याख्या कीजिए।
16. Explain the characteristics of 'Advancing South-West Monsoon Season'. 4
'आगे बढ़ते हुए दक्षिण-पश्चिम मानसून ऋतु' की विशेषताओं को स्पष्ट कीजिए।
17. Explain the geographical conditions required for the cultivation of tea. 4
चाय की खेती के लिए आवश्यक भौगोलिक दशाओं की व्याख्या कीजिए।
18. Explain the executive powers of the President of India. 4
भारत के राष्ट्रपति की कार्यपालिका-संबंधी शक्तियों को स्पष्ट कीजिए।
19. Define the term 'density of population'. Describe the *three* physical factors that influence the distribution and density of population. 1+3=4
'जनसंख्या घनत्व' शब्द को परिभाषित कीजिए। जनसंख्या के वितरण और घनत्व को प्रभावित करने वाले तीन भौतिक कारकों का वर्णन कीजिए।



ACHIEVE BEST MARKS WITH UNNATI EDUCATIONS

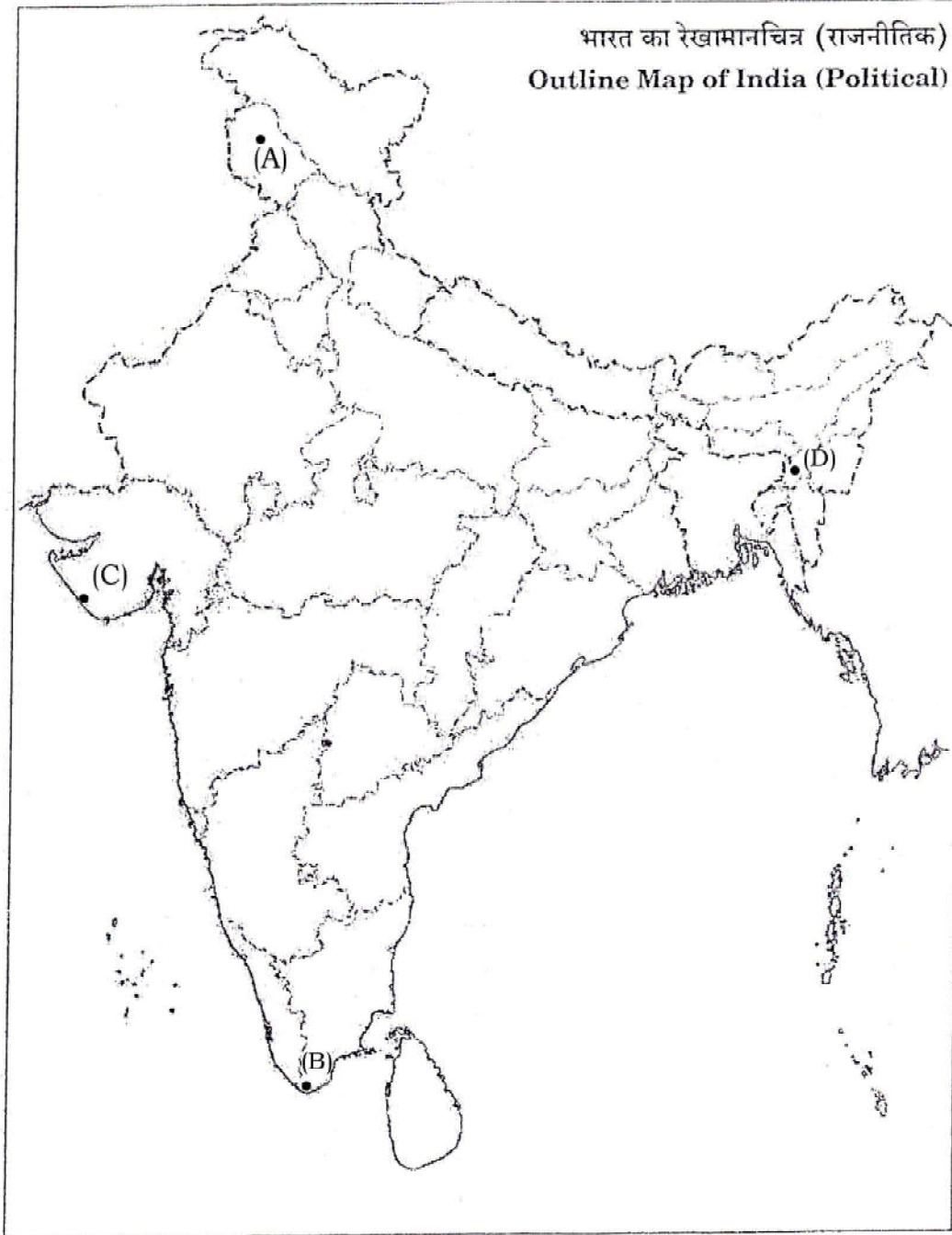
20. Explain the impact of the Reform Movement on the Indian society. 4
भारतीय समाज पर सुधार आंदोलनों के प्रभाव को स्पष्ट कीजिए।
21. Explain with examples the functions of the 'State Legislature'. 4
'राज्य विधायिका' के कार्यों की उदाहरणों सहित व्याख्या कीजिए।
22. Explain the serious consequences of environmental degradation. 4
पर्यावरणीय क्षरण के गंभीर परिणामों की व्याख्या कीजिए।
23. How did revolutionaries contribute in Independence of India? Explain. 4
भारत की स्वतंत्रता में विद्रोहियों ने किस प्रकार योगदान किया? स्पष्ट कीजिए।
24. Describe the main features of Jainism. 5
जैन धर्म की मुख्य विशेषताओं का वर्णन कीजिए।
25. Explain any *five* salient features of Indian agriculture. 1×5=5
भारतीय कृषि की किन्हीं पाँच प्रमुख विशेषताओं को स्पष्ट कीजिए।
26. Describe any *five* major challenges to National Integration. 1×5=5
राष्ट्रीय एकीकरण के समक्ष किन्हीं पाँच प्रमुख चुनौतियों का वर्णन कीजिए।
27. "The innovation had maximum impact in textile and transport industries during the Industrial Revolution." Support the statement. 5
"औद्योगिक क्रांति के दौरान वस्त्र और परिवहन उद्योगों में अधिकतम अभिनव परिवर्तन हुए।" इस कथन की पुष्टि कीजिए।



ACHIEVE BEST MARKS WITH UNNATI EDUCATIONS

28. Terminal stations of North-South and East-West Corridors are marked by (A), (B), (C) and (D) on the given Political Outline Map of India. Identify them and write their correct names in your Answer-Book : $1 \times 4 = 4$

उत्तर-दक्षिण और पूर्व-पश्चिम गलियारों के सिरों के स्टेशनों को भारत के राजनीतिक रेखामानचित्र पर (A), (B), (C) और (D) से अंकित किया गया है। उन्हें पहचानिए और उनके सही नाम अपनी उत्तर-पुस्तिका में लिखिए।



ACHIEVE BEST MARKS WITH UNNATI EDUCATIONS

29. Locate and label the following four geographical features on the given Political Outline Map of India with appropriate symbols : 1×4=4

- (a) Satpura Range
- (b) Mahanadi
- (c) Nanda Devi Biosphere Reserve
- (d) The State having the highest literacy rate

दिए गए भारत के राजनीतिक रेखामानचित्र में निम्नलिखित चार भौगोलिक लक्षणों को उपयुक्त चिह्नों के साथ अंकित कीजिए और उनके नाम लिखिए :

- (क) सतपुड़ा श्रेणी
- (ख) महानदी
- (ग) नंदा देवी बायोस्फीयर रिजर्व
- (घ) सर्वाधिक साक्षरता दर वाला राज्य

Note : The following questions are for the **Visually Impaired Candidates only** in lieu of Question Nos. 28 and 29 : 2×4=8

- (a) Name the terminal stations of North-South Corridor.
- (b) Name the terminal stations of East-West Corridor.
- (c) Name any *two* east-flowing major rivers of Himalayas.
- (d) Name any *two* west-flowing major rivers of Himalayas.



ACHIEVE BEST MARKS WITH UNNATI EDUCATIONS

नोट : निम्नलिखित प्रश्न केवल दृष्टिबाधित परीक्षार्थियों के लिए प्रश्न संख्या 28 तथा 29 के स्थान पर है :

- (क) उत्तर-दक्षिण गलियारे के अन्तिम सिरो के स्टेशनों के नाम लिखिए।
- (ख) पूर्व-पश्चिम गलियारे के अन्तिम सिरो के स्टेशनों के नाम लिखिए।
- (ग) हिमालय की पूर्व की ओर प्रवाहित हो रही किन्हीं दो प्रमुख नदियों के नाम लिखिए।
- (घ) हिमालय की पश्चिम की ओर प्रवाहित हो रही किन्हीं दो प्रमुख नदियों के नाम लिखिए।

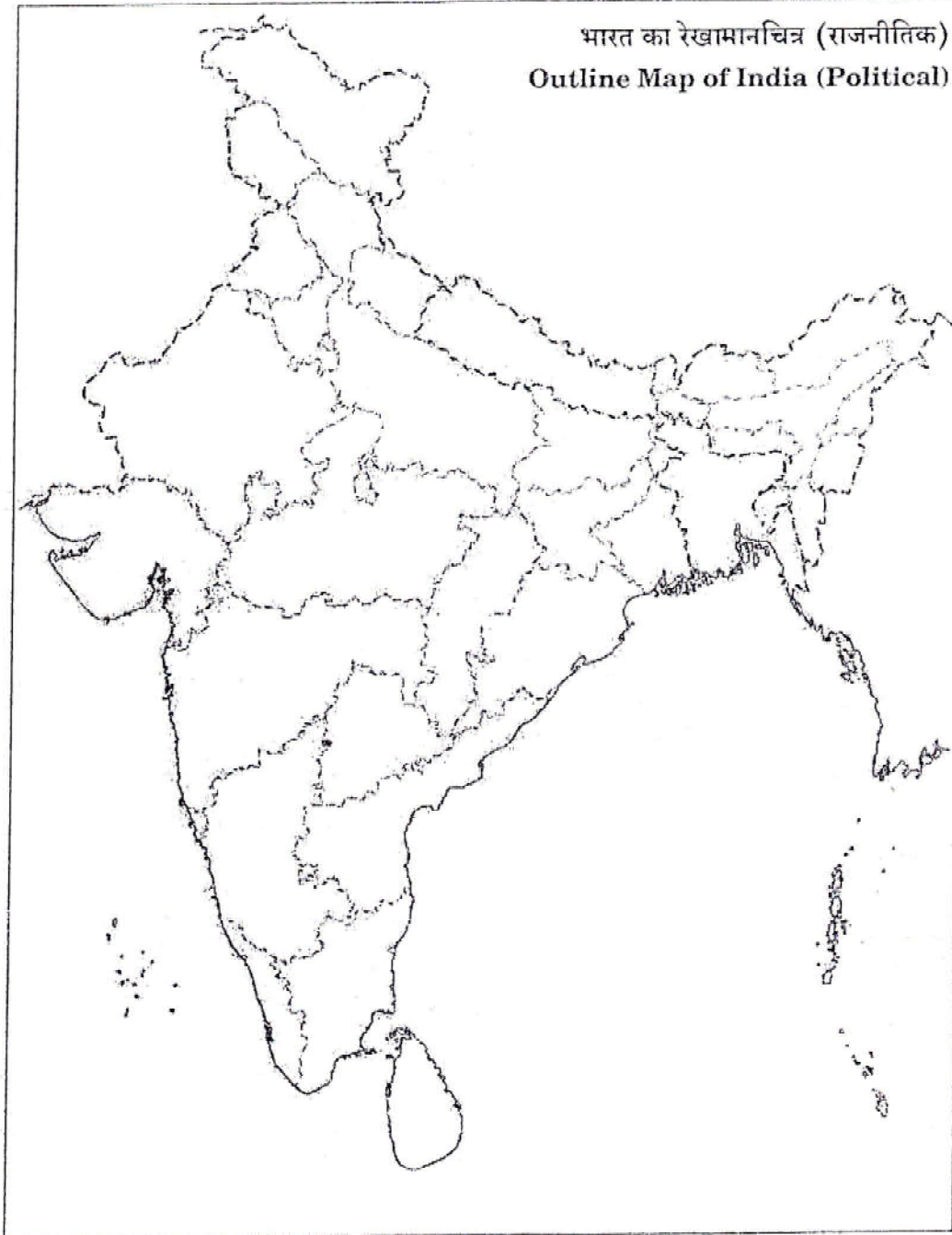


ACHIEVE BEST MARKS WITH UNNATI EDUCATIONS

Map for Q. No. 29
प्रश्न सं० 29 के लिए रेखामानचित्र

Roll No.
अनुक्रमांक

--	--	--	--	--	--	--	--	--	--	--	--	--	--	--	--	--	--	--	--



**GET FULL MARKS WITH
EXPERT SOLVED PAPERS**



**CLASS 10TH AND
CLASS 12TH
ALL SUBJECTS AVAILABLE**



**NIOS LAST YEAR
SOLVED PAPERS**

**GET ALL TMA'S - SOLVED AND
READY TO UPLOAD**



AVAILABLE EXCLUSIVELY ON



UNNATI EDUCATIONS

9654-279-279, 9899436384



*order
now!*

**RS. 75
PER PDF**

