

SOLUTIONS EXCLUSIVELY ON UNNATI EDUCATIONS

This Question Paper consists of 29 questions and 10 printed pages + Outline Map of India.

इस प्रश्न-पत्र में 29 प्रश्न तथा 10 मुद्रित पृष्ठ हैं + भारत का रेखाचित्र है।

Code No. 66/MAY/1

कोड नं०

Roll No.

अनुक्रमांक

270

Set / सेट

B

SOCIAL SCIENCE

सामाजिक विज्ञान

(213)

Day and Date of Examination

(परीक्षा का दिन व दिनांक)

Signature of Invigilators

(निरीक्षकों के हस्ताक्षर)

1.

2. Kim

General Instructions :

1. Candidate must write his/her Roll Number on the first page of the Question Paper.
2. Please check the Question Paper to verify that the total pages and total number of questions contained in the Question Paper are the same as those printed on the top of the first page. Also check to see that the questions are in sequential order.
3. For the objective type of questions, you have to choose any **one** of the four alternatives given in the question, i.e., (A), (B), (C) or (D) and indicate your correct answer in the Answer-Book given to you.
4. All the questions including objective-type questions are to be answered within the allotted time and no separate time limit is fixed for answering objective-type questions.
5. Making any identification mark in the Answer-Book or writing Roll Number anywhere other than the specified places will lead to disqualification of the candidate.
6. Write your Question Paper Code No. 66/MAY/1, Set **B** on the Answer-Book.

213/MAY/1/205B



[P.T.O.]

9899436384, 9654-279-279

7. (a) The Question Paper is in English/Hindi medium only. However, if you wish, you can answer in any one of the languages listed below :
- English, Hindi, Urdu, Punjabi, Bengali, Tamil, Malayalam, Kannada, Telugu, Marathi, Odia, Gujarati, Konkani, Manipuri, Assamese, Nepali, Kashmiri, Sanskrit and Sindhi.

You are required to indicate the language you have chosen to answer in the box provided in the Answer-Book.

- (b) If you choose to write the answer in the language other than Hindi and English, the responsibility for any errors/mistakes in understanding the questions will be yours only.

सामान्य अनुदेश :

1. परीक्षार्थी प्रश्न-पत्र के पहले पृष्ठ पर अपना अनुक्रमांक अवश्य लिखें।
2. कृपया प्रश्न-पत्र को जाँच लें कि प्रश्न-पत्र के कुल पृष्ठों तथा प्रश्नों की उतनी ही संख्या है जितनी प्रथम पृष्ठ के सबसे ऊपर छपी है। इस बात की जाँच भी कर लें कि प्रश्न क्रमिक रूप में हैं।
3. वस्तुनिष्ठ प्रश्नों में आपको चार विकल्पों (A), (B), (C) तथा (D) में से कोई एक उत्तर चुनना है तथा दी गई उत्तर-पुस्तिका में सही उत्तर लिखना है।
4. वस्तुनिष्ठ प्रश्नों के साथ-साथ सभी प्रश्नों के उत्तर निर्धारित अवधि के भीतर ही देने हैं। वस्तुनिष्ठ प्रश्नों के लिए अलग से समय नहीं दिया जाएगा।
5. उत्तर-पुस्तिका में पहचान-चिह्न बनाने अथवा निर्दिष्ट स्थानों के अतिरिक्त कहीं भी अनुक्रमांक लिखने पर परीक्षार्थी को अयोग्य ठहराया जाएगा।
6. अपनी उत्तर-पुस्तिका पर प्रश्न-पत्र का कोड नं० 66/MAY/1, सेट **B** लिखें।
7. (क) प्रश्न-पत्र केवल हिन्दी/अंग्रेजी में है। फिर भी, यदि आप चाहें तो नीचे दी गई किसी एक भाषा में उत्तर दे सकते हैं :
अंग्रेजी, हिन्दी, उर्दू, पंजाबी, बंगला, तमिल, मलयालम, कन्नड़, तेलुगू, मराठी, उड़िया, गुजराती, कोंकणी, मणिपुरी, असमिया, नेपाली, कश्मीरी, संस्कृत और सिन्धी।
कृपया उत्तर-पुस्तिका में दिए गए बॉक्स में लिखें कि आप किस भाषा में उत्तर लिख रहे हैं।
- (ख) यदि आप हिन्दी एवं अंग्रेजी के अतिरिक्त किसी अन्य भाषा में उत्तर लिखते हैं, तो प्रश्नों को समझने में होने वाली त्रुटियों/गलतियों की जिम्मेदारी केवल आपकी होगी।

9899436384, 9654-279-279



SOCIAL SCIENCE

सामाजिक विज्ञान

(213)

Time : 3 Hours]

[Maximum Marks : 100

समय : 3 घण्टे]

[पूर्णांक : 100

Note : (i) All questions are compulsory and carry marks as indicated against each question.

(ii) For Multiple Choice Questions, four options are given. You have to choose the right option and indicate it in your Answer-Book.

(iii) Attach the map with your Answer-Book.

निर्देश : (i) सभी प्रश्न अनिवार्य हैं और प्रत्येक प्रश्न के अंक उसके सामने दिये गये हैं।

(ii) बहुविकल्पीय प्रश्नों के चार विकल्प दिये गये हैं। आप सही विकल्प चुनिए और अपनी उत्तर-पुस्तिका में लिखिए।

(iii) दिये गये रेखामानचित्र को अपनी उत्तर-पुस्तिका के साथ संलग्न कीजिए।

1. Which of the following is the percentage of India's area out of the total land area of the world?

(A) 1.42

(B) 2.42

(C) 3.42

(D) 4.42


विश्व के कुल क्षेत्रफल में भारत का क्षेत्रफल निम्नलिखित में से कितना प्रतिशत है?

(A) 1.42

(B) 2.42

(C) 3.42

(D) 4.42



2. How many calories are required per day for a person of urban area? 1

- (A) 1900 calories
- (B) 2000 calories
- (C) 2100 calories
- (D) 2200 calories

एक शहरी व्यक्ति को निम्नलिखित में से प्रतिदिन कितनी कैलोरी ऊर्जा की आवश्यकता होती है?


- (A) 1900 कैलोरी
- (B) 2000 कैलोरी
- (C) 2100 कैलोरी
- (D) 2200 कैलोरी

3. In which of the following years was the Official Languages Commission set up in India? 1

- (A) 1953
- (B) 1955
- (C) 1958
- (D) 1960

भारत में राजभाषा आयोग का गठन निम्नलिखित में से किस वर्ष में हुआ था?

- (A) 1953
- (B) 1955
- (C) 1958
- (D) 1960



SOLUTIONS EXCLUSIVELY ON UNNATI EDUCATIONS

4. In which of the following types of government, an elected person becomes the head of the government? 1

- (A) Democracy (B) Dictatorship
(C) Monarchy (D) Aristocracy

निम्नलिखित में से किस प्रकार की शासन व्यवस्था में एक निर्वाचित व्यक्ति शासनाध्यक्ष बनता है?

- (A) प्रजातंत्र (B) तानाशाही
(C) राजतंत्र (D) कुलीनतंत्र

5. Name the dynasty to which Chandragupta Maurya belonged. Also write the name of his capital city. 1+1=2

चन्द्रगुप्त मौर्य के राजवंश का नाम लिखिए। उसकी राजधानी का नाम भी लिखिए।

6. Define Rights. 2
अधिकारों को परिभाषित कीजिए।

7. Explain any two functions of democratic governments. 2
लोकतांत्रिक सरकारों के किन्हीं दो कार्यों को स्पष्ट कीजिए।

8. Explain any two features of hot weather season. 2
ग्रीष्म ऋतु की किन्हीं दो विशेषताओं को स्पष्ट कीजिए।

9. Describe any four features of feudalism. 4
सामंतवाद की किन्हीं चार विशेषताओं का वर्णन कीजिए।

10. Describe the technological changes that happened during the Industrial Revolution. 4
औद्योगिक क्रांति के दौरान हुए प्रौद्योगिक परिवर्तनों का वर्णन कीजिए।

11. Explain the impact of the British rule on India.

भारत पर अंग्रेजी शासन के प्रभाव की व्याख्या कीजिए।

12. Explain the role of Raja Ram Mohan Roy as a socio-religious reformer. 4

सामाजिक-धार्मिक सुधारक के रूप में राजा राममोहन रॉय की भूमिका की व्याख्या कीजिए।

13. Explain any *two* ideals for the well-being of people enshrined in the US Declaration of Independence. 4

संयुक्त राज्य अमेरिका के स्वातंत्र्य घोषणा-पत्र में निहित जनहित के किन्हीं दो आदर्शों की व्याख्या कीजिए।

14. Describe the role of plants in maintaining water cycle. 4

जलचक्र को संभालने में पेड़-पौधों की भूमिका का वर्णन कीजिए।

15. Classify the roads on the basis of materials used in their construction. Also mention the materials used in their construction. 4

निर्माण में इस्तेमाल हुई सामग्री के आधार पर सड़कों का वर्गीकरण कीजिए। उनके निर्माण में इस्तेमाल होने वाली सामग्री का भी उल्लेख कीजिए।

16. Why is the population of regions or States compared by the density of population? Give reasons. 4

क्षेत्रों या राज्यों की जनसंख्या की तुलना जनसंख्या घनत्व के आधार पर क्यों करते हैं? कारण बताइए।

17. Give reasons for wide varieties of crops produced in India. 4

भारत में विभिन्न प्रकार की फसलों को उगाए जाने के कारण बताइए।

9899436384, 9654-279-279



SOLUTIONS EXCLUSIVELY ON UNNATI EDUCATIONS

18. Describe the challenges faced by India at the time of her independence. 4
उन चुनौतियों का वर्णन कीजिए जिनका सामना भारत को अपनी स्वतंत्रता प्राप्ति के समय करना पड़ा था।
19. How does a Governor of an Indian State control the activities of the State Government? 4
एक भारतीय राज्य का राज्यपाल राज्य सरकार की गतिविधियों को किस प्रकार नियंत्रित करता है?
20. Explain the appellate jurisdiction of the Supreme Court of India. 4
भारत के सर्वोच्च न्यायालय के अपीलिय क्षेत्राधिकार की व्याख्या कीजिए।
21. Examine any four functions of the political parties. 4
राजनीतिक दलों के किन्हीं चार कार्यों का परीक्षण कीजिए।
22. How does growing population cause environmental degradation? Explain. 4
बढ़ती हुई जनसंख्या किस प्रकार पर्यावरणीय क्षरण का कारण है? स्पष्ट कीजिए।
23. Explain the election, tenure and other specifications related to the office of the Chairman of a Panchayat Samiti. 4
एक पंचायत समिति के अध्यक्ष पद के लिए चुनाव, कार्यकाल तथा अन्य विशिष्टताओं की व्याख्या कीजिए।
24. How did the British disrupt traditional economy of India? Explain. 5
अंग्रेजों ने भारत की परम्परागत अर्थव्यवस्था को किस प्रकार नष्ट किया? स्पष्ट कीजिए।
25. Describe any five issues which require attention in order to conduct free and fair elections. 5
मुक्त तथा निष्पक्ष चुनाव कराने के लिए तात्कालिक ध्यान देने की आवश्यकता वाले किन्हीं पाँच मुद्दों का वर्णन कीजिए।

9899436384, 9654-279-279

213/MAY/1/205B

7



[P.T.O.]

SOLUTIONS EXCLUSIVELY ON UNNATI EDUCATIONS

26. Analyze the course of events between 1915 and 1920 which made Mahatma Gandhi as the leader of the Indian National Movement. 5

1915 से 1920 के मध्य महात्मा गाँधी को भारतीय राष्ट्रीय आन्दोलन के नेता के रूप में स्थापित करने वाले घटना-क्रम का विश्लेषण कीजिए।

27. Describe the role of security in maintenance of peace for human society. 5

मानव समाज की शान्ति के रखरखाव में सुरक्षा की भूमिका का वर्णन कीजिए।

28. In the given political Outline Map of India, mark and label the following with appropriate symbols : 1×4=4

(a) Aravalli Range

(b) Dandi

(c) Rajasansi International Airport

(d) Major sugarcane-producing areas of Andhra Pradesh

भारत के दिए गए राजनीतिक रेखामानचित्र में, निम्न को उपयुक्त चिह्नों की सहायता से दर्शाइए तथा उनके नाम लिखिए :

(क) अरावली पर्वतमाला

(ख) डांडी

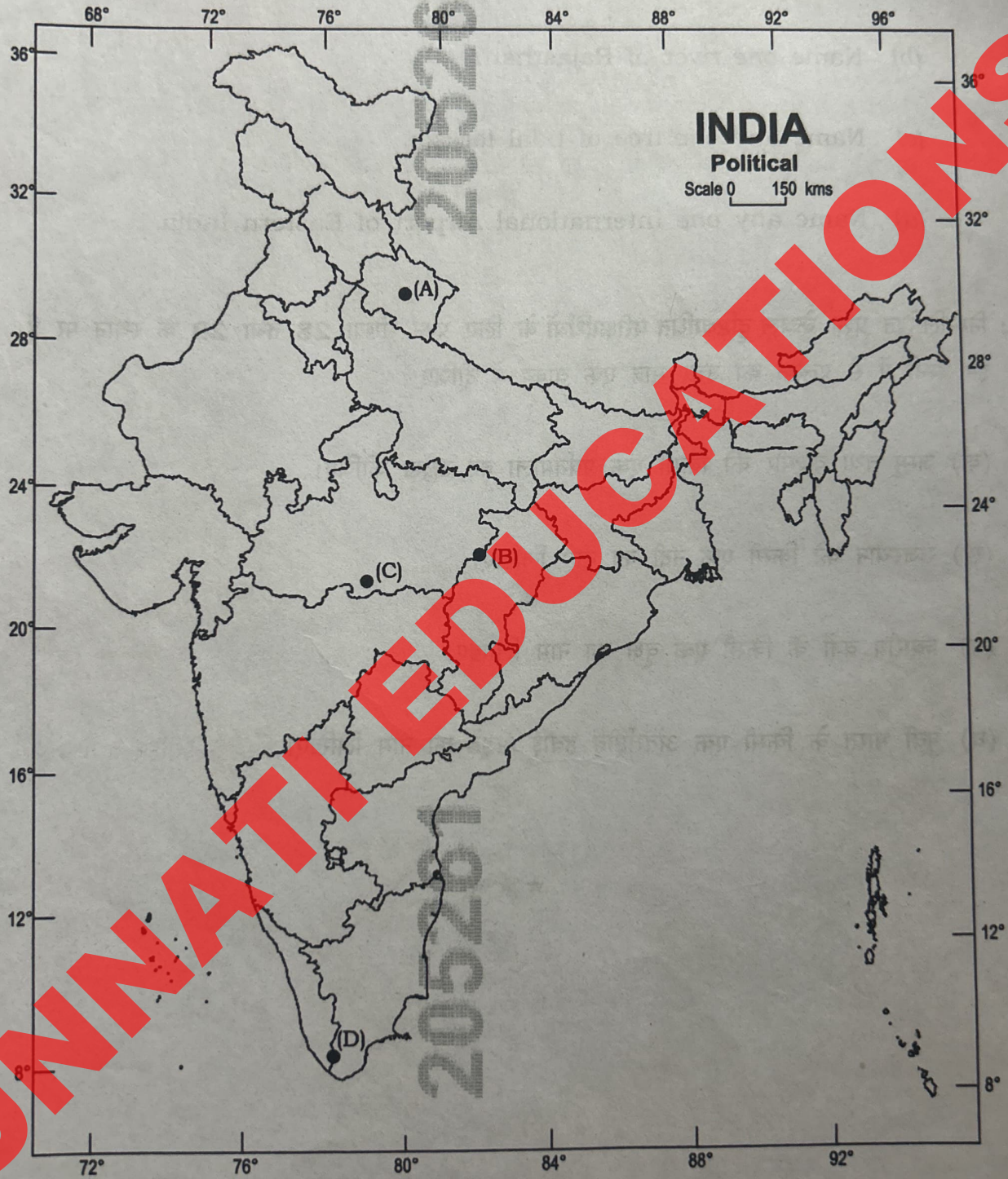
(ग) राजासाँसी अंतर्राष्ट्रीय हवाई अड्डा

(घ) आन्ध्र प्रदेश के प्रमुख गन्ना-उत्पादक क्षेत्र



29. Identify and write in your Answer-Book the correct names of four Biosphere Reserves of India marked as (A), (B), (C) and (D) in the given Political Outline Map of India. 1×4=4

दिए गए भारत के राजनीतिक रेखामानचित्र में भारत के चार जैवमंडल आरक्षित क्षेत्रों को (A), (B), (C) तथा (D) से दर्शाया गया है। इन्हें पहचानिए तथा इनके सही नाम अपनी उत्तर-पुस्तिका में लिखिए।



SOLUTIONS EXCLUSIVELY ON UNNATI EDUCATIONS

Note : The following questions are for the **Visually Impaired Candidates** **only** in lieu of Question Nos. **28** and **29**. Answer to these questions must not be in more than one sentence each : 2×4=8


- (a) Mention any *one* range of Jammu and Kashmir.
- (b) Name *one* river of Rajasthan.
- (c) Name any *one* tree of tidal forests.
- (d) Name any *one* International Airport of Eastern India.

नोट : निम्नलिखित प्रश्न केवल दृष्टिबाधित परीक्षार्थियों के लिए प्रश्न संख्या 28 तथा 29 के स्थान पर हैं। इन प्रश्नों में से प्रत्येक का उत्तर मात्र एक वाक्य में दीजिए :

- (क) जम्मू तथा कश्मीर की किसी एक पर्वतमाला का उल्लेख कीजिए।
- (ख) राजस्थान की किसी एक नदी का नाम लिखिए।
- (ग) ज्वारीय वनों के किसी एक वृक्ष का नाम लिखिए।
- (घ) पूर्वी भारत के किसी एक अंतर्राष्ट्रीय हवाई अड्डे का नाम लिखिए।

9899436384

9654-279-279



**GET FULL MARKS WITH
EXPERT SOLVED PAPERS**



**CLASS 10TH AND
CLASS 12TH
ALL SUBJECTS AVAILABLE**



**NIOS LAST YEAR
SOLVED PAPERS**

**GET ALL TMA'S - SOLVED AND
READY TO UPLOAD**



AVAILABLE EXCLUSIVELY ON



UNNATI EDUCATIONS

9654-279-279, 9899436384



*Order
now!*

**RS. 75
PER PDF**

